



T0634008N

EDITAL DE CONCURSO PÚBLICO
Nº 122/2025

PREFEITURA MUNICIPAL DE PORTO ALEGRE
ESTADO DO RIO GRANDE DO SUL



ECONOMISTA

Candidato(a)

Inscrição

--	--

Nível

SUPERIOR

Turno

TARDE

Material

Além deste Caderno de Questões com sessenta questões objetivas, você receberá do fiscal de sala a Folha de Respostas e a Folha da Versão Definitiva.

Divulgação

A prova e o gabarito preliminar estarão disponíveis no site do Instituto Avalia no endereço eletrônico **www.avalia.org.br**, conforme previsto em Edital.

INSTRUÇÕES PARA A REALIZAÇÃO DA PROVA

- ▶ Confira seu nome, o número do seu documento e o número de sua inscrição em todos os documentos entregues pelo fiscal. Além disso, não se esqueça de conferir seu Caderno de Questões quanto a falhas de impressão e de numeração.
- ▶ O não cumprimento a qualquer uma das determinações constantes em Edital, neste Caderno, na Folha de Respostas, e na Folha da Versão Definitiva incorrerá na eliminação do candidato.
- ▶ A Folha de Respostas e a Folha da Versão Definitiva são os únicos documentos válidos para avaliação.
- ▶ Preencha o campo destinado à assinatura na Folha de Respostas e na Folha da Versão Definitiva. As respostas às questões objetivas devem ser preenchidas da seguinte maneira: ●
- ▶ Use apenas caneta esferográfica transparente de cor azul ou preta. Ao retirar-se definitivamente da sala, entregue a Folha de Respostas e a Folha da Versão Definitiva ao fiscal.
- ▶ O prazo de realização da prova é de **5 horas**, incluindo a marcação da Folha de Respostas e da Folha da Versão Definitiva.
- ▶ Após identificado e acomodado na sala, o candidato somente poderá ausentar-se dela 60 (sessenta) minutos após o início da prova, acompanhado de um fiscal.
- ▶ O candidato poderá entregar sua Folha de Respostas e Folha da Versão Definitiva para deixar definitivamente o local de realização da Prova Objetiva e Prova Discursiva somente após decorridos, no mínimo, 60 (sessenta) minutos do seu início, porém não poderá levar consigo o Caderno de Questões e nenhum tipo de anotação de suas respostas.
- ▶ O candidato poderá levar consigo o Caderno de Questões desde que permaneça na sala até o final do período.
- ▶ Os três últimos candidatos só poderão retirar-se da sala juntos, após assinatura do Termo de Fechamento do Envelope de Retorno.

**Fraudar ou tentar fraudar
Concurso Público é Crime!
Previsto no Art. 311 - A do
Código Penal**

Boa prova!

Língua Portuguesa

Leia o texto a seguir para responder às questões de 1 a 3.

Montanha

Rachel de Queiroz

Há homens do mar e homens do rio, homens da terra plana e homens da montanha, tão diversos uns dos outros como se fossem de raças diferentes. Nativa da praia e da catanga, confesso que, por mim, tenho medo de montanha. Tão altas, tão brutas, com suas rampas de pedra inacessíveis, e até a beleza dos vales lá embaixo é rodeada pela traição dos despenhadeiros.

Não é a cidade, nem as fábricas, nem nenhuma das formas do progresso mecânico que mais me demonstram o atrevimento do homem; é a montanha. Está um homenzinho cá embaixo, na planície, munido apenas das suas duas pernas, e lá em cima vê torrear os monstros, ásperos e verdes, vê os precipícios temerosos, vê azular de encontro às nuvens os picos altíssimos. Pois se vai ele, abandonando a sua planura e a sua segurança, abrindo trilha no flanco do gigante, e escala as serras, e escolhe local de pouso e moradia, e desvenda os mistérios de entre os montes, e aceita como destino e meio de vida o eterno sobe e desce de ladeiras, e faz dos precipícios o seu cotidiano. E vive feliz, e atrai outros atrevidos para o seu lado – e quando se vê está constituído todo um povo de montanheses – fato, afinal, tão admirável quanto se de nossa espécie se constituísse de repente um povo de anfíbios...

Vê-se, pois, que foi exagero euclidiano dizer que o sertanejo é que é antes de tudo um forte. Qual, o sertanejo é principalmente um sofredor. É o fatalista, que recebe como lhe caem por cima as pragas e as poucas bênçãos do destino; enquanto o montanhês é o agressivo, o domador da fera. O sertanejo foi se chegando aos poucos – cada dia, cada ano, caminhava mais uma légua, seguindo no rastro do boi; enquanto o candidato a montanhês teve necessariamente o seu momento de decisão, na hora em que se resolve a enfrentar o salto que o levará cá de baixo às altitudes da serra, e, através da trilha difícil que ele mesmo tem que construir, marcar o seu lugar numa riba de cordilheira, nele se empoleirar e de lá olhar o mundo como um vitorioso.

Isto não é um apólogo. Será quando muito um débil aviso de perigo. Durante anos e anos tivemos o domínio dos homens do planalto e não se deve confundir planalto com montanha; os do planalto só têm da montanha as vantagens, que é a altitude sem a aspereza de picos e morros. O planalto faz trabalhadores e aristocratas, não forja guerrilheiros. Depois subiram os do pampa, a planície por definição. Ficaram também muito tempo – tanto tempo que tem sido difícil desalojá-los, e para os contentar ainda foi preciso entregar-lhes um bom quinhão dos despojos. (...)

Disponível em: <https://cronicabrasileira.org.br/cronicas/9252/montanha>. Acesso em: 28 de out. 2025.

1

Assinale a alternativa cuja afirmação condiz com o conteúdo apresentado no texto “Montanha”.

- (A) Os animais anfíbios surgiram da mesma forma que os homens montanhistas, entre aqueles que se acomodam com o mesmo modo de vida.
- (B) Os montanhistas são uma espécie de homens à parte, diferentes dos demais; são arrojados, aventureiros, não se contentam com a mesmice das coisas.
- (C) A montanha forma aristocratas que desafiam os limites, enquanto a planície forma guerrilheiros calmos, tranquilos, que lutam pela paz.
- (D) Todos os homens são iguais entre si; a única coisa que os diferencia é se vivem nas grandes capitais ou nas cidades do interior.
- (E) O atrevimento dos homens se faz sentir em todos os lugares: nas cidades, nas fábricas, nos campos, nos pampas, nas caatingas.

2

Em relação ao seu tipo e gênero, o texto “Montanha” se enquadra como

- (A) conto jornalístico, do tipo narrativo, com personagens planos (homens comuns) e redondos (montanhistas).
- (B) conto jornalístico, do tipo descritivo, com apresentação de características dos montanhistas.
- (C) crônica jornalística, do tipo narrativa, em que a autora conta fatos e apresenta personagens bem específicos.
- (D) crônica objetiva, do tipo dissertativa, em que a autora desenvolve uma visão científica sobre o tema.
- (E) crônica subjetiva, do tipo dissertativa, em que a autora desenvolve uma visão pessoal sobre o tema.

3

“Pois se vai ele, abandonando a sua planura e a sua segurança, abrindo trilha no flanco do gigante, e escala as serras, e escolhe local de pouso e moradia, e desvenda os mistérios de entre os montes, e aceita como destino e meio de vida o eterno sobe e desce de ladeiras, e faz dos precipícios o seu cotidiano.”

As palavras destacadas no trecho caracterizam a seguinte figura de linguagem e seu correspondente efeito de sentido:

- (A) pleonasma – a repetição da mesma palavra enfatiza a sequência de ações praticadas.
- (B) hipérbole – a repetição da mesma palavra exagera a sequência de ações praticadas.
- (C) polissíndeto – cada palavra realça uma ação, intensificando a ideia de realização dos atos.
- (D) eufemismo – cada palavra suaviza uma ação, amenizando a ideia de realização dos atos.
- (E) hipérbato – cada palavra produz uma alteração brusca na organização dos elementos da frase.

4

Preencha as lacunas e assinale a alternativa correta.

“Você só seria atendido novamente se _____ uma nova avaliação do processo e _____ o seu direito. Quando _____ isso, tudo vai ser resolvido.”

- (A) requeresse / reouvesse / fizer
- (B) requisesse / reouvesse / fizer
- (C) requeresse / reavesse / fizer
- (D) requisesse / reavesse / fazer
- (E) requeresse / reouvesse / fazer

5

“Quando eu alertei os turistas, os ladrões já tinham surrupiado os seus pertences. Da próxima vez, vou procurar me antecipar, como têm feito alguns guardas municipais.”

Assinale a alternativa que apresenta, na mesma ordem, o tempo verbal do indicativo em que se encontram as formas destacadas, seguidas do sentido expresso em cada uma delas.

- (A) Pretérito mais-que-perfeito composto – ação passada posterior a outra ação também passada; pretérito perfeito composto – ação projetada para um futuro próximo.
- (B) Futuro do presente composto – ação passada posterior a outra ação também passada; futuro do pretérito composto – ação projetada para um futuro próximo.
- (C) Pretérito perfeito composto – ação projetada para um futuro próximo; pretérito mais-que-perfeito composto – ação passada posterior a outra ação também passada.
- (D) Pretérito mais-que-perfeito composto – ação passada anterior a outra ação também passada; pretérito perfeito composto – ação repetitiva que começou no passado e continua até o presente.
- (E) Pretérito imperfeito composto – ação passada anterior a outra ação também passada; presente composto – ação repetitiva que começou no passado e continua até o presente.

6

“A biografia dos poetas é revelada pelas palavras, pelos poemas que escrevem.” (Myriam Fraga)

Assinale a alternativa cujos elementos preenchem corretamente as lacunas a seguir, na mesma ordem, em relação à palavra destacada no período.

“Trata-se de uma palavra de natureza _____ que introduz uma oração de valor _____ com o sentido de _____ e que pode ser substituída adequadamente por ‘_____’.”

- (A) pronominal / adjetivo / explicação / cujos
- (B) pronominal / adjetivo / restrição / os quais
- (C) conjuntiva / adverbial / consequência / quantos
- (D) adjetiva / substantivo / finalidade / quem
- (E) conjuntiva / adverbial / causa / quais

7

Assinale a alternativa que se apresenta totalmente correta em relação à ocorrência ou não de crase.


- (A) De acordo com as investigações policiais, foi um tiro a queima-roupa, e por isso não provocou tantos danos à vítima da agressão.
- (B) Entre a carne e a salada, prefiro um bife a parmegiana, mas não desprezo os vegetais, sendo eles essenciais à saúde das pessoas.
- (C) O incidente ocorreu as quinze horas e trinta minutos, conforme a ficha técnica que o perito encaminhou à minha secretária.
- (D) À meia-noite, de domingo a sábado, saem as criaturas à caça de vítimas, conforme reza a lenda daquela comunidade ligada às tradições locais.
- (E) À custa de muito sacrifício, foi dado um fim a saga dos aventureiros que pretendiam a abolição dos direitos conquistados a duras penas.

8

Assinale a alternativa em que a forma verbal apresentada entre parênteses substitui corretamente a palavra destacada no enunciado.

- (A) Qual de nós chegará mais cedo para a arrumação da festa? (chegaremos)
- (B) A lista completa de todos os direitos e obrigações dos cidadãos chegou ontem. (chegaram)
- (C) “Escrever consiste em levar ideias a extremos para vê-las fracassar.” – Alejandro Zambra (fracassarem)
- (D) Vejo que algum de vocês, em plena consciência das faculdades mentais, saiu em disparada ontem. (saíram)
- (E) “A principal necessidade de nossas vidas é alguém que nos obrigue a fazer o que podemos fazer.” – Ralph Waldo Emerson (obriguem)

9



Disponível em: https://www.instagram.com/p/DMDCE__uE7e/?img_index=5. Acesso em: 28 de out. 2025.

Em relação ao sentido das palavras empregadas na tirinha, assinale a alternativa correta.

- (A) No último quadrinho, "Imagina!" é sinônimo de "Por nada!", correspondendo a um enunciado do tipo "Imagine se você precisa agradecer!".
- (B) "Imagina!", no último quadrinho, corresponde a um enunciado do tipo "Imagine se eu preciso agradecer!", sendo sinônimo de "De nada!".
- (C) Em nenhum quadrinho, o verbo "imaginar" é empregado no sentido de "fazer ideia", "ter noção".
- (D) Em nenhum quadrinho, o verbo "imaginar" é empregado no sentido de "cogitar", "conceber".
- (E) Em todos os quadrinhos, o verbo "imaginar" é empregado com um sentido único, sendo sinônimo de "pensar".

10

"O texto é uma máquina preguiçosa que⁽¹⁾ exige que⁽²⁾ os leitores façam a sua parte." (Umberto Eco)

Considere as afirmativas a seguir, preenchendo as lacunas com 1 ou 2, de acordo com a identificação das palavras destacadas no pensamento apresentado. Em seguida, assinale a alternativa com a sequência correta.

- ___ introduz uma oração objetiva direta.
- ___ introduz uma oração de valor adjetivo.
- ___ é uma palavra de natureza pronominal.
- ___ é uma palavra de natureza conjuntiva.
- ___ exerce a função de sujeito.

- (A) 1 - 2 - 2 - 1 - 1.
- (B) 1 - 2 - 2 - 1 - 2.
- (C) 2 - 1 - 2 - 1 - 2.
- (D) 2 - 1 - 1 - 2 - 2.
- (E) 2 - 1 - 1 - 2 - 1.

Raciocínio Lógico

11

Após a transmissão televisiva de um jogo de futebol, a equipe do canal esportivo responsável pela transmissão fez as seguintes afirmações:

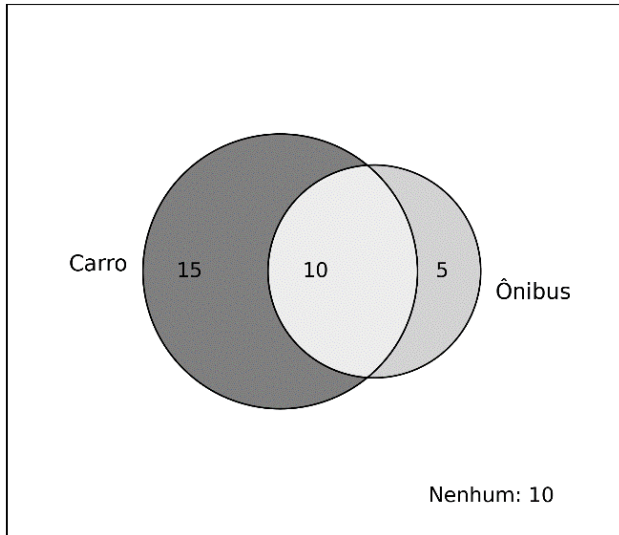
- p: "O time venceu o último jogo."
- q: "O time marcou gols no último jogo."

Considerando a proposição composta $\neg p \vee \neg q$, que representa um time para o qual não é verdade que venceu e marcou gols simultaneamente no último jogo (na mesma rodada do campeonato), assinale a alternativa correta.

- (A) A proposição indica que, se o time marcou gols, então não venceu o último jogo.
- (B) A proposição indica que o time venceu ou marcou gols no último jogo.
- (C) A proposição afirma que todos os times marcaram gols ou venceram.
- (D) A proposição significa que o time perdeu e não marcou gols no último jogo.
- (E) A proposição indica que o time jogou fora de casa e usou uniforme azul.

12

Uma escola realizou uma pesquisa com 40 alunos de uma determinada classe para registrar qual meio de transporte eles utilizam para se deslocar para as aulas. A pesquisa apontou que 15 alunos utilizam apenas carro, 5 utilizam apenas ônibus, 10 utilizam ambos os meios e 10 não utilizam nenhum desses meios, como mostrado na figura a seguir.



Utilizando exclusivamente os dados apresentados na imagem, é correto afirmar que

- (A) dos alunos entrevistados, a quantidade que não utiliza simultaneamente carro e ônibus é 10.
- (B) a quantidade de alunos que utilizam pelo menos um dos meios é 20.
- (C) 20 alunos utilizam exatamente um dos meios de transporte.
- (D) a probabilidade de um aluno, escolhido ao acaso, ir apenas de carro é 25%.
- (E) nenhum aluno que utiliza ônibus, utiliza carro.

13

Uma empresa produz três tipos de produtos – A, B, C – em três setores diferentes. O quadro a seguir mostra a quantidade produzida em um dia típico de trabalho.

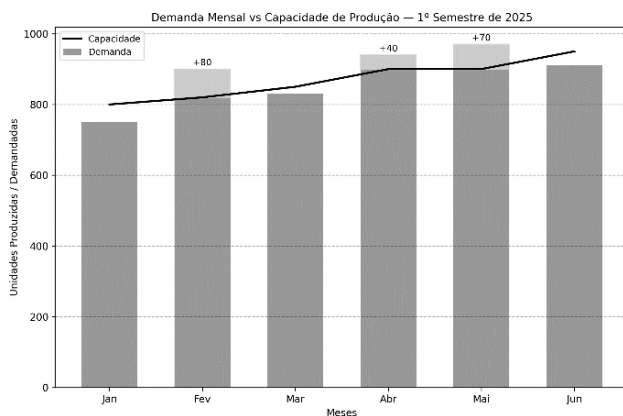
	Setor 1	Setor 2	Setor 3
A	10	20	30
B	15	25	20
C	5	15	10

Com base nos dados apresentados, se a produção do setor 2 aumentar na mesma proporção de crescimento do setor 1 e o setor 1 produzir o dobro do que normalmente produz, qual será o novo total de produtos B produzidos pelos três setores, mantendo-se inalterada a produção do setor 3?

- (A) 150 unidades.
- (B) 120 unidades.
- (C) 60 unidades.
- (D) 200 unidades.
- (E) 100 unidades.

14

Uma indústria fabrica um único produto sob contrato e registrou, durante o primeiro semestre de 2025, a capacidade mensal de produção e a demanda mensal (em unidades), conforme o gráfico a seguir.



Para cada unidade produzida e vendida, a indústria obtém, após dedução de impostos e custos, lucro líquido de R\$ 100. Caso a demanda ultrapasse a capacidade mensal, a indústria pode produzir além da capacidade máxima até o total da demanda do mês, sem outro limite operacional, mediante pagamento de um valor constante de R\$ 60 adicionais por unidade extra produzida (distribuídos entre hora extra e custos logísticos). Se optar por não produzir além da capacidade, a indústria sofrerá R\$ 120 de perda líquida por unidade não atendida (multa contratual e perda de receita). Considerando-se que os dados apresentados no gráfico são valores exatos, e com base nas informações anteriores, em quais meses a decisão mais vantajosa financeiramente é produzir além da capacidade para atender a toda a demanda?

- (A) Fevereiro e abril.
- (B) Fevereiro, maio e junho.
- (C) Fevereiro e maio.
- (D) Fevereiro, abril e maio.
- (E) Abril e maio.

15

Um servidor público decide aplicar parte de seu salário mensal em um investimento de juros simples de 10% ao mês, durante um quadrimestre. Ele planeja realizar depósitos mensais no início de cada mês, em valores que formam uma progressão aritmética, começando com R\$ 100 no primeiro mês e aumentando o valor do depósito em R\$ 50 a cada novo mês. Sabe-se que cada depósito renderá juros simples até o final do quarto mês, de modo que permaneçam aplicados, respectivamente, por 4, 3, 2 e 1 meses. Nessas condições, o montante total acumulado ao fim do quarto mês será de

- (A) R\$ 780.
- (B) R\$ 920.
- (C) R\$ 890.
- (D) R\$ 850.
- (E) R\$ 950.

Informática

16

Um técnico em informática foi chamado para avaliar o desempenho de um computador que apresenta lentidão ao iniciar o sistema operacional e ao abrir programas. Após a análise, ele percebeu que a máquina possui um processador com boa capacidade de processamento, 4 GB de memória RAM e um HD mecânico tradicional. O cliente pergunta se adicionar mais memória RAM ou trocar o HD por um SSD traria mais benefícios no desempenho. Com base nesse cenário e nos conhecimentos sobre memória, processador e dispositivos de armazenamento, assinale a alternativa correta.

- (A) A troca do HD por um SSD não traria melhorias significativas, já que o desempenho do sistema é limitado apenas pela quantidade de memória RAM disponível.
- (B) A adição de memória RAM sempre será mais vantajosa que a troca do HD, independentemente do sistema e do uso.
- (C) A troca do HD por um SSD pode melhorar significativamente o tempo de inicialização do sistema e a abertura de programas, mesmo que a memória RAM permaneça a mesma.
- (D) O processador é o único responsável pela velocidade de execução dos programas, portanto o tipo de armazenamento não influencia no desempenho.
- (E) CDs e DVDs são opções superiores aos HDs e SSDs em termos de velocidade de leitura e escrita, sendo mais indicados para melhorar o desempenho do sistema.

17

Um usuário relata que seu computador está apresentando lentidão ao executar múltiplas tarefas. Durante a análise, o técnico utiliza o gerenciador de tarefas do sistema operacional para investigar os processos em execução e verificar o consumo de recursos. Após identificar o problema, o técnico sugere também a instalação de um compactador de arquivos e a configuração de um cliente de e-mail para otimizar a rotina de trabalho do usuário. Com base nesse cenário e nos conhecimentos sobre softwares utilitários e aplicativos, assinale a alternativa que apresenta corretamente a função de cada um dos programas citados.

- (A) O gerenciador de tarefas serve para desfragmentar o HD; o compactador de arquivos organiza a área de trabalho; e o cliente de e-mail envia mensagens diretamente por SMS.
- (B) O gerenciador de tarefas permite visualizar e gerenciar os processos e o uso de recursos do sistema; o compactador de arquivos reduz o tamanho de arquivos e pastas; e o cliente de e-mail permite o envio e recebimento de mensagens por meio de protocolos como POP3 ou IMAP.
- (C) O gerenciador de tarefas é utilizado para instalar drivers de dispositivos; o compactador de arquivos criptografa automaticamente todos os dados do sistema; e o cliente de e-mail é exclusivo para redes corporativas internas.
- (D) O gerenciador de tarefas mostra apenas os programas abertos em primeiro plano; o compactador de arquivos apenas converte arquivos para PDF; e o cliente de e-mail não permite anexos por segurança.
- (E) Todos os softwares mencionados são exclusivamente utilizados em servidores e não têm utilidade em estações de trabalho pessoais.

18

Um técnico de suporte está prestando atendimento remoto a um usuário que precisa melhorar o desempenho de seu computador com Windows 10, sem realizar upgrades de hardware. Durante a conversa, o técnico recomenda algumas ações: desativar programas que iniciam com o sistema; verificar o uso da CPU e da memória RAM em tempo real; e limpar arquivos temporários que ocupam espaço no disco. Com base no Windows 10 e nas funcionalidades nativas do sistema, assinale a alternativa que apresenta corretamente as ferramentas que o usuário pode utilizar para realizar essas ações.

- (A) Para desativar programas de inicialização, deve-se usar o Editor do Registro; para monitorar CPU e RAM, o Painel de Controle; e para apagar arquivos temporários, o Gerenciador de Impressão.
- (B) O MSConfig é a ferramenta mais atual para gerenciar o desempenho e visualizar o uso de recursos em tempo real.
- (C) O Prompt de Comando é a única forma de acessar configurações de inicialização de programas no Windows 10.
- (D) A desinstalação de programas via "Programas e Recursos" remove arquivos temporários automaticamente e otimiza o uso da memória RAM em tempo real.
- (E) O Gerenciador de Tarefas permite desativar programas de inicialização e monitorar o uso de CPU e memória; já a Limpeza de Disco pode ser usada para apagar arquivos temporários do sistema.

19

Uma empresa possui uma rede interna utilizada para comunicação entre os setores, compartilhamento de arquivos e acesso a sistemas internos de gestão. Além disso, todos os funcionários utilizam a Internet para atividades como envio de e-mails externos, acesso a sistemas bancários e videoconferências com clientes. Com base nesse cenário e nos conceitos de Internet e Intranet, analise as assertivas a seguir e assinale a alternativa que aponta as corretas.

- I. A Intranet é uma rede privada, acessível apenas a usuários autorizados dentro da organização, e pode funcionar mesmo sem conexão com a Internet.
- II. A Internet é uma rede pública de alcance global, baseada em protocolos como TCP/IP e DNS.
- III. Uma empresa pode ter uma Intranet e, ao mesmo tempo, permitir que essa Intranet seja acessada via Internet, desde que com segurança, como por meio de VPNs.
- IV. A Intranet depende exclusivamente da conexão com a Internet para funcionar, pois os serviços internos só são acessados com IPs públicos.

- (A) I e II, apenas.
- (B) II e IV, apenas.
- (C) I, II e III, apenas.
- (D) III e IV, apenas.
- (E) I e III, apenas.

20

Durante uma aula de informática, o professor propõe o seguinte desafio aos alunos:

“Pesquise na Web artigos recentes sobre segurança digital publicados por instituições confiáveis, mas exclua resultados que mencionem redes sociais.”

Um dos alunos decide utilizar um mecanismo de busca, como o Google, e aplicar operadores para refinar sua pesquisa. Considerando boas práticas de busca na Web e os operadores utilizados pelos principais mecanismos de busca, assinale a alternativa que apresenta corretamente uma forma de realizar essa busca.

- (A) segurança digital OR redes sociais site:*.gov
- (B) "segurança digital" -redes sociais site:.gov.br
- (C) segurança digital AND redes sociais site:.com
- (D) segurança digital NOT redes sociais site:.org
- (E) segurança digital + redes sociais site:.edu.br

Legislação

21

Segundo a Lei nº 11.340/2006, Lei Maria da Penha, toda mulher, independentemente de classe, raça, etnia, orientação sexual, renda, cultura, nível educacional, idade e religião, goza dos direitos fundamentais inerentes à pessoa humana, sendo-lhe asseguradas as oportunidades e facilidades para viver sem violência, preservar sua saúde física e mental e seu aperfeiçoamento moral, intelectual e social. Com base no que dispõe a Lei Maria da Penha, analise as assertivas e assinale a alternativa que aponta as corretas.

- I. **Dentre as medidas protetivas de urgência que o juiz pode deferir à vítima de violência doméstica, está a proibição temporária ao agressor de celebração de atos e contratos de compra, venda e locação de propriedade em comum, salvo expressa autorização judicial.**
- II. **Na inquirição de mulher em situação de violência doméstica e familiar, quando se tratar de crime contra a mulher, será garantido que, em nenhuma hipótese, a mulher em situação de violência doméstica e familiar, familiares e testemunhas terão contato direto com investigados ou suspeitos e pessoas a eles relacionadas.**
- III. **A mulher vítima de violência doméstica tem a opção de propor ação de divórcio ou de dissolução de união estável perante o Juizado de Violência Doméstica e Familiar contra a Mulher localizado no lugar do faro em se baseou a demanda, inclusive no se refere a partilha dos bens.**
- IV. **Ao processo, ao julgamento e à execução das causas cíveis e criminais decorrentes da prática de violência doméstica e familiar contra a mulher, aplicar-se-ão as normas dos Códigos de Processo Penal e Processo Civil e da legislação específica relativa à criança, ao adolescente e ao idoso que não conflitem com o estabelecido na Lei Maria da Penha.**

- (A) I e II, apenas.
- (B) II e III, apenas.
- (C) II, III e IV apenas.
- (D) I, II e IV apenas.
- (E) I, II, III e IV.

22

De acordo com a Lei Complementar nº 133/1985, que estabelece o Estatuto dos Funcionários Públicos do Município de Porto Alegre/RS, funcionário é a pessoa legalmente investida em cargo público municipal. Em consonância com o que dispõe esse Estatuto, são deveres dos funcionários, EXCETO

- (A) manter coleção atualizada de leis, regulamentos e demais normas necessárias ao desempenho de suas atribuições.
- (B) providenciar para que esteja sempre em dia, no assentamento individual, seu endereço residencial e sua declaração de família.
- (C) constituir-se procurador de partes ou servir de intermediário perante qualquer órgão municipal, exceto quando se tratar de parente até o segundo grau ou cônjuge.
- (D) atender preferencial e prontamente, entre outros, a pedidos de informações da Câmara Municipal.
- (E) sugerir providências tendentes ao aperfeiçoamento de serviço.

23

A Lei Orgânica do Município de Porto Alegre/RS prevê que são poderes do município, independentes e harmônicos entre si, o Legislativo e o Executivo, sendo vedada a delegação de atribuição entre os poderes. No que se refere à organização, à competência e às atribuições do Poder Executivo, à luz do que dispõe a Lei Orgânica do Município de Porto Alegre/RS, assinale a alternativa correta.

- (A) O prefeito poderá licenciar-se para tratar de assunto de interesse particular, com remuneração, por período de até 90 dias por ano, mediante aprovação da Câmara Municipal.
- (B) Compete privativamente ao prefeito prestar, dentro de 60 dias, prorrogáveis, justificadamente, por mais 30, as informações solicitadas pela Câmara Municipal referentes aos negócios do município.
- (C) Substituirá o prefeito, no caso de impedimento, e suceder-lhe-á, no de vaga, o vice-prefeito; no caso de impedimento conjunto do prefeito e do vice-prefeito, assumirá o cargo o Procurador-Geral do município.
- (D) O prefeito poderá solicitar urgência nos projetos de Lei de sua iniciativa, caso em que deverão ser apreciados em 60 dias, devendo a solicitação de urgência ser feita no início do processo.
- (E) O Poder Executivo é exercido pelo prefeito, auxiliado pelo vice-prefeito, pelos secretários e diretores e os demais responsáveis pelos órgãos da administração direta e indireta, sendo assegurada a participação popular nas decisões do Poder Executivo.

24

Luana praticou um roubo quando tinha 17 anos, tendo, dois meses depois, completado 18 anos. Contudo, Luana só foi descoberta como autora do roubo quando completou 19 anos. Considerando o caso apresentado e as disposições da Lei Federal nº 8.069/1990, Estatuto da Criança e do Adolescente (ECA), assinale a alternativa correta.

- (A) Será aplicado o ECA, uma vez que deverá ser considerada a idade que Luana tinha na data do fato.
- (B) Não será aplicado o ECA, uma vez que Luana será julgada após atingir a maioridade penal.
- (C) Será aplicado o ECA, tendo em vista que a maioridade penal é atingida somente aos 21 anos.
- (D) Não será aplicado o ECA, pois a maioridade penal é atingida aos 16 anos.
- (E) Luana não será julgada pelo crime cometido, haja vista que atingiu a maioridade penal antes da descoberta da autoria.

25

A Lei Orgânica do Município de Porto Alegre/RS prevê que o transporte coletivo é serviço público de caráter essencial e deverá ser estruturado de acordo com os princípios previstos na lei. A respeito do transporte urbano e do trânsito no município de Porto Alegre, de acordo com o que prevê a Lei Orgânica Municipal, assinale a alternativa correta.

- (A) O transporte remunerado de passageiros, coletivo ou individual, de qualquer natureza, é serviço público que não está sujeito ao controle e à fiscalização dos órgãos próprios do município.
- (B) Nem toda a alteração no transporte coletivo dentro dos limites do município – urbano, interurbano, interestadual e intermunicipal – dependerá de aprovação prévia do Poder Executivo.
- (C) Cargas de alto risco poderão ser transportadas na zona urbana independentemente de vistoria e licença, desde que observadas as necessárias medidas de segurança.
- (D) Na medida do possível, o município assegurará tarifa do transporte compatível com o poder aquisitivo da população e com a manutenção do equilíbrio econômico-financeiro do sistema.
- (E) Entre os princípios que regem a estruturação do transporte coletivo do município, está a integração entre os diferentes meios de transporte e a implantação dos equipamentos de apoio.

26

Com base no que está previsto na Lei Federal nº 8.069/1990, Estatuto da Criança e do Adolescente (ECA), as entidades de atendimento são responsáveis pela manutenção das próprias unidades, assim como pelo planejamento e pela execução de programas de proteção e socioeducativos destinados a crianças e adolescentes, em regime de

- (A) abrigo.
- (B) liberdade assistida.
- (C) apoio socioeducativo em meio aberto.
- (D) prisão em regime semiaberto.
- (E) prisão em regime fechado.

27

Considerando a Lei nº 6.309/1988, que estabelece o plano de cargos e carreira dos funcionários da administração centralizada do município, a respeito das gratificações por atividades especiais, assinale a alternativa correta.

- (A) Quando no exercício simultâneo de atividade insalubre e perigosa, o funcionário poderá optar pela gratificação que lhe for mais favorável, sendo vedada a percepção cumulativa.
- (B) O funcionário convocado para prestação de serviço extraordinário perceberá uma gratificação correspondente ao valor/hora normal, acrescido de 60%.
- (C) O funcionário no exercício de atividades perigosas terá direito a uma gratificação correspondente a 20%, calculada sobre o valor básico inicial do respectivo cargo, sobre a qual incidirão quaisquer gratificações ou vantagens.
- (D) Ao funcionário convocado para prestar serviço noturno será atribuída uma gratificação correspondente a 20%, calculada sobre o valor normal da hora diurna.
- (E) Os funcionários que operam direta e continuamente com raios X ou substâncias radioativas, próximo às fontes de irradiação, estarão sujeitos a, no máximo, 48 semanais de trabalho.

28

A Lei nº 11.340/2.006 (Maria da Penha) assegura às mulheres as condições para o exercício efetivo dos direitos à vida, à segurança, à saúde, à alimentação, à educação, à cultura, à moradia, ao acesso à justiça, ao esporte, ao lazer, ao trabalho, à cidadania, à liberdade, à dignidade, ao respeito e à convivência familiar e comunitária. À luz da referida legislação, em relação às medidas protetivas de urgência, assinale a alternativa correta.

- (A) As medidas protetivas de urgência poderão ser concedidas pelo juiz, após manifestação do Ministério Público, a requerimento deste ou a pedido da ofendida.
- (B) Em qualquer fase do inquérito policial ou da instrução criminal, caberá a prisão preventiva do agressor, decretada pelo juiz, de ofício, a requerimento do Ministério Público ou mediante representação da autoridade policial.
- (C) As medidas protetivas de urgência serão aplicadas isolada ou cumulativamente e somente poderão ser substituídas por outras de maior eficácia após o transcurso de 30 dias da concessão.
- (D) As medidas protetivas de urgência serão concedidas, desde que haja tipificação penal da violência, independentemente do ajuizamento de ação penal ou cível, da existência de inquérito policial ou do registro de boletim de ocorrência.
- (E) A ofendida deverá ser notificada dos atos processuais relativos ao agressor, exceto àqueles pertinentes ao ingresso e à saída da prisão, sem prejuízo da intimação do advogado constituído ou do defensor público.

29

A criança e o adolescente gozam de todos os direitos fundamentais inerentes à pessoa humana, sem prejuízo da proteção integral prevista na Lei Federal nº 8.069/1990, Estatuto da Criança e do Adolescente (ECA). Com base no Estatuto da Criança e do Adolescente (ECA), informe se é verdadeiro (V) ou falso (F) o que se afirma a seguir e assinale a alternativa com a sequência correta.

- () A medida socioeducativa de internação pode ser aplicada com prazo determinado, desde que observados os princípios de brevidade e excepcionalidade; sua manutenção pode ser reavaliada a cada três meses.
- () É facultada a realização de atividades externas pelo adolescente internado, salvo expressa determinação judicial em contrário, sendo possível a revisão dessa determinação pela autoridade judiciária a qualquer tempo.
- () O descumprimento reiterado e injustificável de medida anteriormente imposta pode ensejar a internação por até três meses, desde que decretada judicialmente após o devido processo legal.
- () A internação deverá ser cumprida em entidade exclusiva para adolescentes, assegurada rigorosa separação segundo idade, compleição física e gravidade da infração, sendo obrigatórias as atividades pedagógicas durante todo o período de internação, inclusive provisória.
- () O adolescente privado de liberdade tem direito de avistar-se com seu defensor, correspondendo-se livremente com familiares e amigos, mas a visita dos pais poderá ser suspensa a critério da equipe técnica, ainda que sem decisão judicial.

- (A) V – V – F – V – F.
 (B) F – V – V – F – F.
 (C) F – F – F – V – V.
 (D) V – F – V – F – F.
 (E) F – V – V – F – V.

30

João é funcionário efetivo estável do município de Porto Alegre/RS e, durante o exercício de sua função, pela primeira vez, praticou ato doloso que, segundo a Lei, configura exercício irregular de suas atribuições. Com base no caso apresentado, e à luz do que prevê a Lei Complementar nº 133/1985, que estabelece o Estatuto dos Funcionários Públicos do Município de Porto Alegre/RS, assinale a alternativa correta.

- (A) Pela infração praticada, João poderá responder civil e administrativamente, cumulativamente, mas não penalmente.
- (B) Por ser a primeira infração, independentemente de sua natureza e gravidade, João não poderá sofrer a aplicação da pena de cassação de disponibilidade.
- (C) Em sendo aplicada a pena de suspensão a João, esta não poderá exceder 60 dias consecutivos e implicará a perda de todas as vantagens e direitos decorrentes do cargo.
- (D) Considerando que a falta cometida por João não foi abandono do cargo ou ausências excessivas ao serviço, uma vez submetido a inquérito administrativo, João só poderá ser exonerado, a pedido, depois da conclusão do processo, reconhecida sua inocência.
- (E) Em sendo João condenado às penas de suspensão ou multa, estas deverão ser aplicadas no prazo máximo de três anos, contados da data do conhecimento do ato ou fato por seu superior hierárquico, sob pena de prescrição, salvo hipóteses de suspensão desse prazo.

Conhecimentos Específicos

31

Considere que, em determinado mercado, ocorre uma redução nos custos de produção de um bem. Nesse caso, considerando tudo mais constante (*ceteris paribus*), qual será o efeito sobre a curva de oferta desse bem?

- (A) A curva de oferta desloca-se para a esquerda, indicando redução da oferta.
- (B) A curva de oferta desloca-se para a direita, indicando aumento da oferta.
- (C) Ocorre um movimento ao longo da curva de oferta, com redução do preço.
- (D) A curva de oferta torna-se mais inclinada, refletindo maior elasticidade.
- (E) A curva de oferta permanece inalterada, pois custos não afetam a oferta.

32

Quando utilizamos o modelo de oferta e demanda, estamos pressupondo que o mercado analisado é

- (A) competitivo.
 (B) oligopólio.
 (C) monopólio.
 (D) concorrência monopolística.
 (E) cartel.

33

Em um determinado mercado, um aumento de 4% no preço de um bem causou uma redução de 15% na quantidade demandada dele. Com base nessa informação, determine a elasticidade-preço da demanda e classifique-a corretamente.

- (A) -0,27; demanda inelástica.
- (B) -0,60; demanda unitária.
- (C) -1,50; demanda elástica.
- (D) -3,75; demanda elástica.
- (E) -3,75; demanda inelástica.

34

Em uma cidade do interior, há apenas uma mineradora, responsável por empregar a maioria dos trabalhadores locais. Por ser a única compradora de mão de obra especializada na região, essa empresa consegue influenciar o salário pago aos trabalhadores, oferecendo valores menores aos que predominariam em um mercado competitivo. Esse tipo de situação caracteriza qual estrutura de mercado?

- (A) Monopólio.
- (B) Oligopólio.
- (C) Concorrência monopolística.
- (D) Concorrência perfeita.
- (E) Monopsônio.

35

Considere a seguinte situação: em um mercado, cada comprador e vendedor tem conhecimento completo e uniforme sobre tudo, desde preços e qualidade até os termos e as condições de negociação. Nessa situação, é correto afirmar que o mercado

- (A) apresenta informação assimétrica, pois o conhecimento sobre os produtos é desigual entre as partes.
- (B) tende a apresentar falhas decorrentes da seleção adversa.
- (C) não apresenta informação assimétrica, pois há simetria de informações entre os participantes.
- (D) caracteriza-se pela existência de poder de mercado concentrado em poucos agentes.
- (E) apresenta imperfeições típicas de um oligopólio.

36

O gerente de uma loja observou que seus novos clientes têm maior poder aquisitivo e pesquisou a interação da demanda com a renda. Com base na elasticidade-renda da demanda, ele obteve os seguintes resultados: produto A igual à -0,33; produto B igual à +0,66. Assinale a alternativa que reconhece corretamente o tipo de bem com uma mudança no perfil do cliente e a decisão mais razoável que a loja deve tomar.

- (A) O produto A é um produto inelástico e um bem inferior; deverá ser trocado.
- (B) O produto B é um produto inelástico e um bem inferior; deverá ser trocado.
- (C) Ambos os produtos são inelásticos e bens inferiores; deveram ser trocados.
- (D) Ambos os produtos são inelásticos e bens normais; não deveram ser trocados.
- (E) O produto B é um produto elástico e um bem inferior; deverá ser trocado.

37

Um operador de câmbio observou que a cotação do dólar variava entre diferentes praças financeiras. Ao identificar que o dólar estava sendo vendido a R\$ 5,05/US\$ em Curitiba e comprado a R\$ 5,15/US\$ em Maceió, ele realizou a compra em Curitiba e a venda imediata em Maceió, obtendo lucro dessa negociação com a diferença de preços. Com base nessas informações, o tipo de operação realizada pelo operador caracteriza a

- (A) especulação.
- (B) arbitragem.
- (C) triangulação.
- (D) swap.
- (E) hedge.

38

Um economista do Banco Central do Brasil foi incumbido de analisar a renda total gerada pelos fatores de produção pertencentes a residentes brasileiros, tanto no território nacional quanto no exterior. Ele observou que diversas empresas multinacionais estrangeiras atuam dentro do país, enquanto empresas brasileiras mantêm fábricas e investimentos significativos fora do território nacional. Para mensurar corretamente a produção associada à propriedade dos fatores de produção nacionais, o economista decidiu utilizar como indicador o Produto Nacional Bruto (PNB). Com base nas informações apresentadas e nos conceitos macroeconômicos, assinale a alternativa que melhor define o PNB.

- (A) O PNB mede o valor de mercado de todos os bens e serviços finais produzidos dentro das fronteiras geográficas de um país, durante determinado período.
- (B) O PNB representa a soma de todos os bens e serviços finais produzidos pelos fatores de produção pertencentes a residentes do país, independentemente do local onde a produção ocorra.
- (C) O PNB é o valor total das exportações e importações de bens e serviços em um determinado período.
- (D) O PNB é a soma dos bens e serviços intermediários e finais produzidos no país e no exterior.
- (E) O PNB considera apenas a produção realizada por empresas de capital nacional situadas dentro do país.

39

Em uma reunião estratégica, o diretor financeiro de uma grande indústria divulgou um relatório sobre as projeções de crescimento da empresa para o próximo ano. A pesquisa indicou que o Banco Central estava implementando aumentos consecutivos na taxa básica de juros (Selic) como parte de uma estratégia monetária focada no controle da inflação. Nesse contexto, a área financeira previu que o custo de financiar novos investimentos aumentaria consideravelmente, diminuindo a atratividade dos projetos planejados. Com base nos princípios da teoria macroeconômica keynesiana, que liga a taxa de juros aos elementos da demanda agregada, pode-se afirmar que o aumento da taxa de juros

- (A) tende a estimular o investimento, pois eleva o retorno das aplicações produtivas.
- (B) não afeta o investimento, já que este depende apenas do nível de renda e produção.
- (C) tende a reduzir o investimento, pois eleva o custo de financiamento dos projetos.
- (D) mantém o investimento constante, pois o crédito empresarial é inelástico a variações de juros.
- (E) aumenta o consumo e o investimento, já que reflete um cenário de maior liquidez na economia.

40

Durante uma recessão, o governo decide aumentar os gastos públicos com obras de infraestrutura, mantendo inalterada a carga tributária, com o objetivo de estimular a atividade econômica. De acordo com a teoria keynesiana, qual é o principal efeito esperado dessa política fiscal sobre o nível de renda e produto da economia?

- (A) Redução imediata da renda e do emprego, devido ao aumento do gasto público.
- (B) Nenhuma alteração na renda, pois o investimento privado compensa a ação do governo.
- (C) Redução da renda disponível, causada pela elevação dos impostos.
- (D) Aumento apenas do consumo, sem impacto sobre o produto agregado.
- (E) Aumento da renda e do produto, em magnitude superior ao aumento inicial do gasto público, devido ao efeito multiplicador.

41

O governo federal decidiu realizar uma política fiscal expansionista, elevando os gastos públicos e reduzindo tributos para estimular a economia em um período de baixo crescimento. Após algum tempo, observa-se que o déficit público primário aumenta consideravelmente, e o endividamento do governo cresce em ritmo acelerado. Com base nesse contexto, assinale a alternativa correta.

- (A) A política fiscal expansionista reduz o déficit público, pois aumenta automaticamente a arrecadação.
- (B) A política fiscal expansionista aumenta o déficit público, pois eleva os gastos e reduz as receitas tributárias no curto prazo.
- (C) O déficit público não é afetado, pois depende apenas da taxa de juros da dívida.
- (D) O déficit público diminui, desde que a taxa de câmbio permaneça constante.
- (E) A política fiscal expansionista gera superávit, desde que o investimento privado cresça no mesmo ritmo.

42

O Produto Interno Bruto (PIB) de um país é a soma de todos os bens e serviços finais produzidos dentro de seu território durante um período específico. Quando o PIB real da economia cresce 3% em um ano, então

- (A) a produção total aumentou em termos reais, ou seja, descontando os efeitos da inflação.
- (B) o nível de preços da economia aumentou 3%.
- (C) a renda nominal da população cresceu na mesma proporção.
- (D) as exportações aumentaram em 3%.
- (E) o valor dos bens intermediários produzidos cresceu 3%.

43

Termo utilizado no dia a dia; fala sobre economia que afeta toda a população. É quando o nível geral de preços em uma economia aumenta continuamente ao longo do tempo.

A descrição se refere à

- (A) deflação, que aumenta o valor real da moeda.
- (B) crescimento real do produto.
- (C) inflação, que reduz o poder de compra da moeda.
- (D) estagnação de preços.
- (E) expansão do consumo real.

44

Durante um estudo sobre o sistema financeiro nacional, observou-se que a base monetária representa o conjunto de meios de pagamento de alta liquidez, controlados diretamente pelo Banco Central, e que servem de fundamento para a criação de moeda pelos bancos comerciais. Considerando essa definição e os principais componentes que formam a base monetária, assinale a alternativa que apresenta corretamente sua composição.

- (A) Base monetária = papel-moeda em poder do público + reserva voluntárias dos bancos + reserva compulsória.
- (B) Base monetária = papel-moeda em circulação + caixa dos bancos + reserva compulsória.
- (C) Base monetária = papel-moeda em poder do público + caixa dos bancos + caixa do banco central.
- (D) Base monetária = papel-moeda em poder do público + reserva voluntárias dos bancos + reserva compulsória + multiplicador monetário.
- (E) Base monetária = depósitos à vista + depósitos de poupança + papel-moeda em poder do público.

45

A econometria pode ser entendida como uma ferramenta essencial da análise econômica moderna, pois permite testar teorias e estimar relações quantitativas entre variáveis econômicas. De acordo com Gujarati (2011), o principal objetivo da econometria é

- (A) descrever fenômenos econômicos apenas de forma qualitativa.
- (B) analisar políticas econômicas sem a utilização de dados numéricos.
- (C) um amálgama de teoria econômica, economia matemática, estatística econômica e estatística matemática.
- (D) substituir completamente as teorias econômicas tradicionais.
- (E) prever o comportamento individual dos agentes econômicos sem o uso de modelos estatísticos.

46

Em 1º de abril de 2021, foi sancionada uma nova legislação federal que redefiniu o marco jurídico das contratações públicas no Brasil, estabelecendo um regime que conviveu temporariamente com normas anteriores até sua plena substituição. Essa Lei passou a ser oficialmente conhecida como

- (A) Lei de Parcerias Público-Privadas.
- (B) Lei Geral das Concessões e Permissões de Serviço Público.
- (C) Lei das Organizações da Sociedade Civil.
- (D) Lei de Licitações e Contratos Administrativos.
- (E) Lei de Gestão de Contratos e Convênios Interfederativos.

47

A Lei nº 14.133/2021 introduziu mudanças significativas no planejamento das contratações públicas, ampliando as exigências para análise de viabilidade econômica e gestão de riscos. Suponha-se que um órgão público pretenda contratar a construção de um centro de distribuição com financiamento parcialmente externo, cujo projeto envolve incertezas de demanda futura e volatilidade no custo de insumos. De acordo com as determinações da Lei nº 14.133/2021, qual instrumento obrigatório deve conter, antes da licitação, a estruturação da análise de riscos do empreendimento e a estratégia de alocação desses riscos entre Administração e contratado?

- (A) Termo de Referência ou Projeto Básico.
- (B) Estudo Técnico Preliminar (ETP).
- (C) Análise de Impacto Orçamentário-Financeiro.
- (D) Matriz de Riscos.
- (E) Plano Anual de Contratações (PAC).

48

A Lei nº 11.079/2004 trouxe um marco importante para a modernização da relação contratual entre o setor público e o setor privado, especialmente em projetos de infraestrutura e prestação de serviços de grande vulto. Essa legislação estabeleceu diretrizes específicas para modelos contratuais que envolvem a repartição de riscos, remuneração por desempenho e financiamento privado de obras e serviços públicos. Com base nessa legislação, assinale a alternativa que apresenta corretamente o objeto instituído pela Lei nº 11.079/2004.

- (A) Institui normas gerais de concessões comuns e permissões de serviços públicos, substituindo integralmente a Lei nº 8.987/1995.
- (B) Estabelece o novo regime jurídico de compras públicas, criando as modalidades de concorrência, pregão e diálogo competitivo.
- (C) Dispõe sobre o Estatuto das Estatais e define regras de governança e licitação aplicáveis às empresas públicas e sociedades de economia mista.
- (D) Institui diretrizes gerais para o regime de contratações temporárias e terceirização de serviços públicos no âmbito federal, estadual e municipal.
- (E) Institui normas gerais para licitação e contratação de parceria público-privada no âmbito da Administração Pública.

49

A Lei nº 11.079/2004 institui normas gerais para licitação e contratação de Parcerias Público-Privadas (PPPs) e define diversas condições e vedações. Um órgão público estadual pretende celebrar um contrato de PPP para a construção e operação de um novo terminal rodoviário, financiado parcialmente por iniciativa privada e com remuneração baseada em pagamento do usuário e aporte público. O contrato terá prazo de 4 anos. Segundo a Lei nº 11.079/2004, essa contratação não poderá ocorrer, com base na modalidade de PPP, se o(a)

- (A) contrato for da modalidade de concessão patrocinada, com contraprestação pública e tarifa ao usuário.
- (B) contrato estiver sob regime de concessão administrativa, com remuneração exclusiva da administração pública.
- (C) valor total do contrato ultrapassar R\$ 20.000.000.
- (D) contrato tiver prazo de 4 anos, abaixo do mínimo exigido.
- (E) iniciativa privada for remunerada unicamente por tarifas pagas pelos usuários do serviço.

50

Durante a fase preparatória de uma contratação pública, o setor requisitante afirma que deve apresentar um documento contendo a análise da necessidade da contratação, alternativas possíveis de solução, justificativa da escolha da solução mais adequada e avaliação preliminar de viabilidade técnica e econômica. Com base na Lei nº 14.133/2021, esse documento integra o planejamento da contratação e corresponde ao

- (A) Projeto Básico, obrigatório para qualquer aquisição de bens.
- (B) Estudo Técnico Preliminar (ETP), elaborado para caracterizar a necessidade e avaliar a viabilidade da solução.
- (C) Termo de Referência, que contém todos os estudos prévios de viabilidade técnica e econômica.
- (D) Plano Anual de Contratações (PAC), que concentra todos os estudos técnicos exigidos.
- (E) Documento de Oficialização da Demanda (DOD), que substitui o ETP em qualquer contratação.

51

O FMI foi criado com o objetivo de promover a cooperação monetária internacional e a estabilidade financeira. Assinale a alternativa que NÃO apresenta a função típica do FMI.

- (A) Conceder assistência financeira a países que enfrentam desequilíbrios de balanço de pagamentos.
- (B) Monitorar as políticas econômicas e financeiras dos países-membros.
- (C) Auxiliar tecnicamente os países-membros no fortalecimento de suas capacidades econômicas.
- (D) Promover o comércio internacional e garantir conversibilidade cambial entre os países-membros.
- (E) Financiar diretamente grandes projetos de infraestrutura nos países em desenvolvimento.

52

O Banco Mundial foi procurado por um país latino-americano para apoiar um programa de modernização logística, com foco em ferrovias, portos e corredores de exportação. O governo deseja reduzir custos de transporte, aumentar competitividade e gerar empregos. Com base nas funções do Banco Internacional para Reconstrução e Desenvolvimento (BIRD), assinale a alternativa correta.

- (A) O BIRD financia exclusivamente operações de curto prazo destinadas a equilibrar o balanço de pagamentos.
- (B) O BIRD concede empréstimos para projetos estruturantes de desenvolvimento econômico e social.
- (C) O BIRD regula acordos comerciais multilaterais entre países membros.
- (D) O BIRD atua apenas com doações, não com empréstimos.
- (E) O BIRD só financia projetos relacionados ao setor bancário e ao sistema financeiro interno dos países.

53

Um país da América do Sul busca financiamento para ampliar o saneamento básico em pequenas cidades, além de apoio para melhorar a gestão municipal e fortalecer políticas públicas. O governo considera procurar o BID. Sobre a atuação típica do BID, assinale a alternativa correta.

- (A) O BID financia apenas projetos do setor privado, sem participação do setor público.
- (B) O BID é especializado em empréstimos para países asiáticos e africanos.
- (C) O BID oferece financiamento e assistência técnica voltados ao desenvolvimento econômico e social da América Latina e do Caribe.
- (D) O BID regula tarifas comerciais e disputas entre países latino-americanos.
- (E) O BID atua exclusivamente no financiamento de políticas monetárias.

54

Durante uma reunião internacional, representantes de diversos países discutiram controvérsias relacionadas a tarifas de importação sobre produtos agrícolas. O tema foi levado ao órgão competente da Organização Mundial do Comércio (OMC). Considerando as funções da OMC, assinale a alternativa correta.

- (A) A OMC concede empréstimos de longo prazo para apoiar o desenvolvimento de países pobres.
- (B) A OMC é responsável pela supervisão das políticas monetárias internacionais.
- (C) A OMC define regras de estabilidade financeira global e presta assistência emergencial.
- (D) A OMC financia diretamente governos nacionais para expansão de infraestrutura.
- (E) A OMC atua como fórum permanente para negociações comerciais e solução de controvérsias entre seus membros.

55

O Programa Nacional de Avaliação de Serviços de Saúde (PNASS) tem como principal objetivo

- (A) avaliar exclusivamente a qualidade das edificações dos hospitais.
- (B) padronizar o prontuário eletrônico em todo o território nacional.
- (C) implantar a mesma metodologia de gestão hospitalar em todos os estados.
- (D) avaliar serviços de saúde quanto à estrutura, processos de trabalho e resultados.
- (E) realizar auditorias financeiras nos hospitais públicos.

56

Em políticas públicas de saúde, é fundamental identificar se uma intervenção realmente provocou mudanças observadas e se essas mudanças podem ser atribuídas ao programa, e não a fatores externos. Esse tipo de análise corresponde ao foco principal da(o)

- (A) avaliação de impacto.
- (B) monitoramento administrativo rotineiro.
- (C) coleta de dados para relatórios contábeis.
- (D) auditoria operacional de processos.
- (E) análise comparativa de cobertura populacional.

57

No âmbito do SUS, avaliações são instrumentos essenciais para aperfeiçoar ações, programas e políticas públicas. Elas permitem que decisões sejam tomadas com base em informações estruturadas e evidências. Assim, a finalidade central das avaliações é

- (A) atender exclusivamente a exigências burocráticas.
- (B) classificar unidades de saúde conforme produtividade.
- (C) apoiar decisões, possibilitando ajustar e melhorar programas e políticas.
- (D) padronizar relatórios enviados ao Ministério da Saúde.
- (E) analisar somente custos e orçamentos.

58

A Assistência Social no Brasil é organizada por meio do Sistema Único de Assistência Social (SUAS). De acordo com seus princípios e objetivos, assinale a alternativa correta quanto à sua finalidade principal.

- (A) Garantir acesso universal e gratuito aos serviços de saúde por meio da rede SUS.
- (B) Promover a proteção social a cidadãos e famílias em situação de vulnerabilidade, por meio de serviços, programas, benefícios e projetos.
- (C) Coordenar políticas de educação básica e superior em todo o território nacional.
- (D) Regular o mercado de trabalho formal e informal, garantindo direitos trabalhistas.
- (E) Desenvolver ações de defesa civil e resposta a desastres naturais em âmbito municipal.

59

Em um modelo de regressão linear simples, qual é a função da variável dependente (Y)?

- (A) Representar a variável explicativa que influencia X.
- (B) Indicar o termo de erro que captura fatores não observados.
- (C) Ser a variável cujo comportamento se busca explicar ou prever a partir de outra variável.
- (D) Manter-se constante ao longo das observações.
- (E) Representar uma variável que não pode ser mensurada diretamente.

60

Em uma regressão linear simples, o termo de erro (u) é utilizado para representar

- (A) fatores não observados ou não incluídos no modelo que afetam Y.
- (B) a parte de Y que é explicada perfeitamente por X.
- (C) o coeficiente angular da reta de regressão.
- (D) a variável utilizada para prever X.
- (E) a soma dos valores observados de X e Y.

Discursiva

Instruções para Prova Discursiva

A Prova Discursiva, de caráter eliminatório e classificatório, O candidato deverá obter pontuação mínima de 50% (cinquenta por cento) do total máximo de pontos ou mais para não ser eliminado do Concurso Público.

A Prova Discursiva será avaliada com base nos seguintes aspectos:

1. conhecimento técnico-científico sobre a matéria;
2. atendimento ao tema proposto na questão;
3. clareza na argumentação e senso crítico em relação ao tema proposto na questão;
4. utilização adequada da Língua Portuguesa.

O candidato terá sua Prova Discursiva avaliada com nota 0 (zero) e estará automaticamente eliminado do Concurso Público se:

- a) fugir completamente ao tema proposto na questão;
 - b) manuscruver em letra ilegível ou grafar por outro meio que não o determinado em Edital;
 - c) apresentar acentuada desestruturação na organização textual ou atentar contra o pudor;
 - d) redigir seu texto a lápis, ou a tinta em cor diferente de azul ou preta;
 - e) não apresentar sua Prova Discursiva na Folha da Versão Definitiva ou entregá-la em branco, ou desenvolvê-la com espaçamento excessivo entre letras, palavras, parágrafos e margens;
 - f) apresentar identificação de qualquer natureza (nome parcial, nome completo, outro nome qualquer, número(s), letra(s), sinais, desenhos ou códigos).
- A Folha da Versão Definitiva será o único documento válido para a avaliação da Prova Discursiva. As folhas para rascunho, no caderno de questões, são de preenchimento facultativo e não valerão para a finalidade de avaliação da Prova Discursiva.
 - O candidato disporá de 15 (quinze) linhas, no máximo, para elaborar a resposta da questão da Prova Discursiva, sendo desconsiderado para efeito de avaliação qualquer fragmento de texto que for escrito fora do local apropriado ou que ultrapassar a extensão máxima de 15 (quinze) linhas permitidas para a elaboração de seu texto.
 - A Prova Discursiva deverá ser feita à mão pelo próprio candidato, em letra legível, com caneta esferográfica transparente de tinta azul ou preta.

1

Descreva o impacto das mudanças de curto prazo na política fiscal, incluindo gastos (aumentando ou diminuindo), nos níveis de produção e emprego. Explique discutindo os efeitos de tais gastos no nível da demanda agregada e a resposta do consumo das famílias e do investimento empresarial às mudanças nas rendas e expectativas. Também mostre os mecanismos do multiplicador fiscal, incluindo porque uma expansão fiscal inicial provavelmente terá efeitos maiores do que o montante inicial gasto. Finalmente, examine algumas possíveis limitações a esses resultados, particularmente em dificuldades orçamentárias, pressão ascendente sobre as taxas de juros e impedimentos na implementação de políticas que podem atenuar a escala do efeito antecipado.

1

2

3

4

5

6

7

8

9

10

11

12

13

14

15

Realização

Instituto Avalia